

ශ්‍රී ලංකා විභාග දෙපාර්තමේන්තුව ශ්‍රී ලංකා විභාග දෙපාර්තමේන්තුව ශ්‍රී ලංකා විභාග දෙපාර්තමේන්තුව ශ්‍රී ලංකා විභාග දෙපාර්තමේන්තුව ශ්‍රී ලංකා විභාග දෙපාර්තමේන්තුව  
 இலங்கைப் பரீட்சைத் திணைக்களம் இலங்கைப் பரීட்சைத் திணைக்களம் இலங்கைப் பரීட்சைத் திணைக்களம் இலங்கைப் பரීட்சைத் திணைக்களம் இலங்கைப் பரීட்சைத் திணைக்களம்  
 Department of Examinations, Sri Lanka Department of Examinations, Sri Lanka Department of Examinations, Sri Lanka Department of Examinations, Sri Lanka Department of Examinations, Sri Lanka  
 ශ්‍රී ලංකා විභාග දෙපාර්තමේන්තුව ශ්‍රී ලංකා විභාග දෙපාර්තමේන්තුව ශ්‍රී ලංකා විභාග දෙපාර්තමේන්තුව ශ්‍රී ලංකා විභාග දෙපාර්තමේන්තුව ශ්‍රී ලංකා විභාග දෙපාර්තමේන්තුව  
 இலங்கைப் பரීட்சைத் திணைக்களம் இலங்கைப் பரීட்சைத் திணைக்களம் இலங்கைப் பரීட்சைத் திணைக்களம் இலங்கைப் பரීட்சைத் திணைக்களம் இலங்கைப் பரීட்சைத் திணைக்களம்  
 Department of Examinations, Sri Lanka Department of Examinations, Sri Lanka Department of Examinations, Sri Lanka Department of Examinations, Sri Lanka Department of Examinations, Sri Lanka

**32 S I**

**අධ්‍යයන පොදු සහතික පත්‍ර (සාමාන්‍ය පෙළ) විභාගය, 2018 දෙසැම්බර්**  
**கல்விப் பொதுத் தராதரப் பத்திர (சாதாரண தர)ப் பரீட்சை, 2018 டிசெம்பர்**  
**General Certificate of Education (Ord. Level) Examination, December 2018**

ගණිතය **I**  
 கணிதம் **I**  
 Mathematics **I**

**2018.12.10 / 0830 - 1030**

**පැය දෙකයි**  
**இரண்டு மணித்தியாலம்**  
**Two hours**

විභාග අංකය: .....

---

නිවැරදි බවට සහතික කරමි.  
 .....

ශාලා නිරීක්ෂකගේ අත්සන

- වැදගත්:**
- \* මෙම ප්‍රශ්න පත්‍රය පිටු 8කින් සමන්විත ය.
  - \* මෙම පිටුවේ, තුන්වැනි පිටුවේ නියමිත ස්ථානවල ඔබේ විභාග අංකය නිවැරදි ව ලියන්න.
  - \* ප්‍රශ්න සියල්ලට ම පිළිතුරු මෙම ප්‍රශ්න පත්‍රයේ ම සපයන්න.
  - \* පිළිතුර ලිවීමටත් එම පිළිතුර ලබා ගත් ආකාරය දැක්වීමටත් එක් එක් ප්‍රශ්නය යටින් තබා ඇති ඉඩ ප්‍රමාණය ප්‍රයෝජනයට ගන්න.
  - \* ප්‍රශ්නවලට පිළිතුරු සැපයීමේදී අදාළ පියවර හා නිවැරදි ඒකක දක්වන්න.
  - \* පහත දක්වා ඇති පරිදි ලකුණු ප්‍රදානය කෙරේ:  
**A කොටසෙහි**  
 එක් එක් ප්‍රශ්නයට ලකුණු 2 බැගින්.  
**B කොටසෙහි**  
 එක් එක් ප්‍රශ්නයට ලකුණු 10 බැගින්.
  - \* කටුවැඩ සඳහා හිස් කඩදාසි ලබා ගත හැකි ය.

පරීක්ෂකවරුන්ගේ ප්‍රයෝජනය සඳහා පමණි		
කොටස	ප්‍රශ්න අංක	ලකුණු
A	1 - 25	
B	1	
	2	
	3	
	4	
	5	
එකතුව		
..... පළමුවන පරීක්ෂක	..... සංකේත අංකය	
..... දෙවන පරීක්ෂක	..... සංකේත අංකය	
..... ගණිත පරීක්ෂක	..... සංකේත අංකය	
..... ප්‍රධාන පරීක්ෂක	..... සංකේත අංකය	

A කොටස

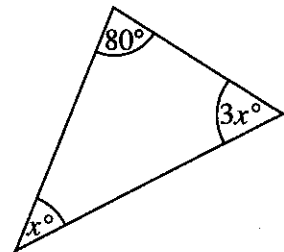
ප්‍රශ්න සියල්ලට ම පිළිතුරු මෙම ප්‍රශ්න පත්‍රයේ ම සපයන්න.

- අරය  $r$  සහ උස  $h$  වූ සෘජු වෘත්ත සිලින්ඩරයක වක්‍ර පෘෂ්ඨයේ වර්ගඵලය  $2\pi rh$  වේ.
- අවශ්‍ය අවස්ථාවලදී  $\pi$  හි අගය සඳහා  $\frac{22}{7}$  යොදාගන්න.

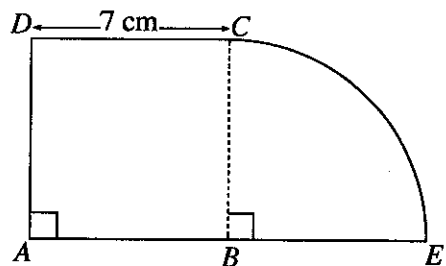
1. මිනිසුන් 10 දෙනකුට වැඩක් නිම කිරීමට දින 6ක් ගත වන බව ඇස්තමේන්තු කර ඇත. එමෙන් දෙගුණයක වැඩක් නිම කිරීමට මිනිසුන් 8 දෙනකුට ගත වන දින ගණන සොයන්න.

2. සාධක සොයන්න:  $2x^2 + x - 6$

3. රූපයේ දී ඇති තොරතුරු අනුව  $x$  හි අගය සොයන්න.

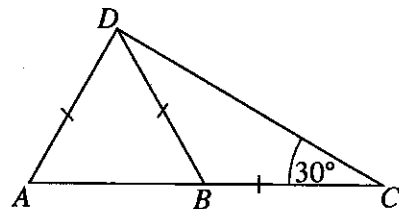


4. රූපයේ  $ABCD$  සමචතුරස්‍රයකි;  $BCE$  කේන්ද්‍රික ඛණ්ඩයකි. සංයුක්ත රූපයේ පරිමිතිය සොයන්න.



5. සුළු කරන්න:  $\frac{4}{x} - \frac{1}{2x}$

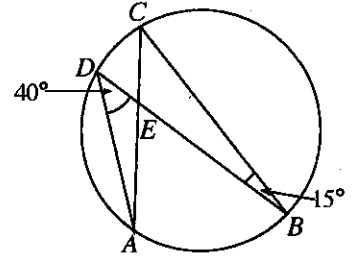
6. රූපයේ  $ABC$  සරල රේඛාවකි. දී ඇති තොරතුරු අනුව  $\hat{DAB}$  හි විශාලත්වය සොයන්න.



7.  $26.3 = 10^{1.42}$  වේ.  $\lg 26.3$  හි අගය කීය ද?

8. වර්ගඵලය  $880 \text{ cm}^2$  වූ සෘජුකෝණාස්‍ර කඩදාසියක් පතුලේ අරය  $14 \text{ cm}$  වූ ඝන සෘජු වෘත්ත සිලින්ඩරයක වක්‍ර පෘෂ්ඨය හරියටම වැසෙන සේ අලවා ඇත. සිලින්ඩරයේ උස සොයන්න.

9.  $A, B, C, D$  යනු වෘත්තය මත පිහිටි ලක්ෂ්‍ය 4කි. දී ඇති තොරතුරු අනුව  $\angle DEC$  හි විශාලත්වය සොයන්න.



10. විසඳන්න:  $x^2 - 36 = 0$

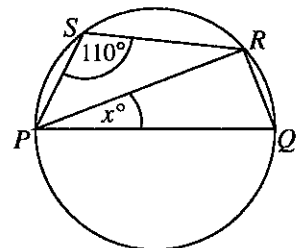
11. ඒකාකාර ශීඝ්‍රතාවකින් ජලය ගලා එන නළයකින්, ධාරිතාව ලීටර 480 වූ ටැංකියක් සම්පූර්ණයෙන් ජලයෙන් පිරවීමට මිනිත්තු 8ක් ගත වේ. නළයෙන් ජලය ගලා එන ශීඝ්‍රතාව සොයන්න.

12. සුදුසු වචන යොදා හිස්තැන් පුරවන්න.

සමාන්තරාස්‍රයක සම්මුඛ ..... සමාන වේ. සමාන්තරාස්‍රයක එක් එක් විකර්ණය මගින් එහි ..... සමච්ඡේද වේ.

13. පැතිවල 1 සිට 6 තෙක් අංක යොදා ඇති සමබර දාදු කැටයක් පෙරළීමේදී 2 හි ගුණාකාරයක් හෝ 3 හි ගුණාකාරයක් හෝ ලැබීමේ සම්භාවිතාව සොයන්න.

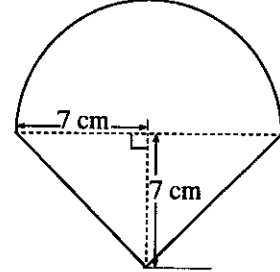
14. රූපයේ දැක්වෙන වෘත්තයේ විෂ්කම්භය  $PQ$  වේ. දී ඇති තොරතුරු අනුව  $x$  හි අගය සොයන්න.



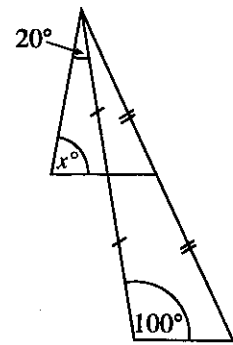
15. මෙම වගුවට අනුව, රුපියල් 800000ක වාර්ෂික ආදායමක් ලබන කැනැන්තකු ගෙවිය යුතු ආදායම් බද්ද සොයන්න.

වාර්ෂික ආදායම	බදු ප්‍රතිශතය
පළමු රු 500 000	බදු නිදහස්
ඊළඟ රු 500 000	4%
ඊළඟ රු 500 000	8%

16. මෙහි දැක්වෙන්නේ අරය 7 cm වූ අර්ධ වෘත්තයකින් හා ත්‍රිකෝණයකින් සමන්විත සංයුක්ත රූපයකි. මුළු රූපයේ වර්ගඵලය සොයන්න.

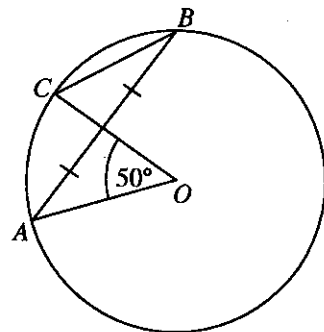


17. රූපයේ දී ඇති තොරතුරු අනුව  $x$  හි අගය සොයන්න.

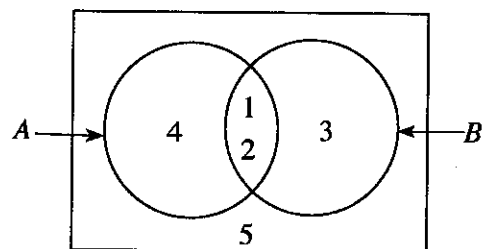


18.  $\begin{pmatrix} 2 & -1 \\ 0 & 3 \end{pmatrix} \begin{pmatrix} 1 & 3 \\ -2 & 1 \end{pmatrix} = \begin{pmatrix} x & y \\ -6 & 3 \end{pmatrix}$  නම්  $x$  හි සහ  $y$  හි අගය සොයන්න.

19. රූපයේ ඇති වෘත්තයේ කේන්ද්‍රය  $O$  වේ. දී ඇති තොරතුරු අනුව  $\hat{O}CB$  හි විශාලත්වය සොයන්න.



20. වෙන් රූපයේ දී ඇති තොරතුරු අනුව  $A' \cup B'$  කුලකය එහි අවයව ඇසුරෙන් ලියා දක්වන්න.



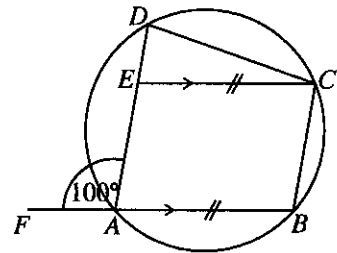
21. පළමුවන පදය 8 ද පොදු අනුපාතය 2 ද වූ ගුණෝත්තර ශ්‍රේණියේ 7 වන පදය 2 හි බලයක් ලෙස ලියන්න.

22.  $(0, 8)$  සහ  $(2, 4)$  ලක්ෂ්‍ය හරහා යන සරල රේඛාවේ අනුක්‍රමණය සොයන්න.

23. ආරෝහණ පටිපාටියට සකස් කරන ලද දත්ත වැලක පළමුවන වතුර්ථකය පිහිටා ඇත්තේ 7 වන ස්ථානයේ ය. මෙම වැලේ ඇති දත්ත සංඛ්‍යාව කීය ද?

24. සුළු කරන්න:  $\frac{3a}{10b} + \frac{9}{5b}$

25. දී ඇති රූපයේ  $ABCE$  සමාන්තරාස්‍රයකි.  $A, B, C$  සහ  $D$  ලක්ෂ්‍ය 4 වෘත්තය මත පිහිටයි. දී ඇති තොරතුරු අනුව  $\hat{E}CD$  හි විශාලත්වය සොයන්න.



**B කොටස**

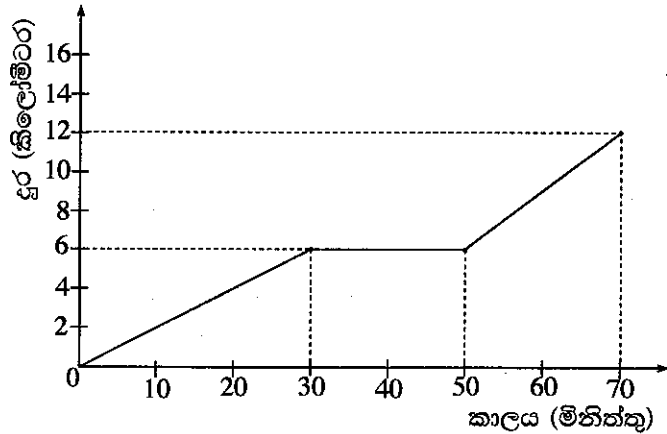
ප්‍රශ්න සියල්ලට ම පිළිතුරු මෙම ප්‍රශ්න පත්‍රයේ ම සපයන්න.

1. මිනිසෙක් තමා සතු මුදලකින්  $\frac{2}{5}$  ක් බිරිඳට ද ඉතුරු මුදල පුතුන් තුන්දෙනාට සමසේ ද බෙදා දීමට අදහස් කළේය. නමුත් එසේ බෙදා දීමට ප්‍රථම එම මුදලින්  $\frac{1}{6}$  ක් සහෝදරයාට දීමට ඔහුට සිදු විය. ඉතුරු වූ මුදල මුලින් අදහස් කළ ආකාරයට බෙදා දෙන ලදී.

- (i) බිරිඳට ලැබුණු මුදල මිනිසා ලග මුලින් තිබූ මුදලින් කොපමණ භාගයක් ද?
- (ii) සහෝදරයාටත් බිරිඳටත් දීමෙන් පසු ඔහු ලග ඉතුරු වූ මුදල මුලින් තිබූ මුදලින් කවර භාගයක් ද?
- (iii) පුතකුට ලැබුණු මුදල් ප්‍රමාණය කලින් ලැබීමට තිබූ මුදලට වඩා රුපියල් 40 000 කින් අඩු විය. මිනිසා ලග මුලින් තිබූ මුදල සොයන්න.

2. ශිෂ්‍යයකු තම නිවසේ සිට පාසලට ගමන් කළ ආකාරය, දී ඇති දුර-කාල ප්‍රස්තාරයෙන් දැක්වේ.

- (i) ශිෂ්‍යයා අතරමග නැවතී සිටි කාලය කොපමණ ද?
- (ii) ඔහු පළමු මිනිත්තු 30 දී ගමන් කළ වේගය පැයට කිලෝමීටරවලින් සොයන්න.



- (iii) ඔහු ගමනේ අවසාන මිනිත්තු 20 දී ගමන් කළ වේගය, පළමු මිනිත්තු 30 දී ගමන් කළ වේගය මෙන් කී ගුණයක් ද?
- (iv) ඔහු පළමු මිනිත්තු 30 දී ගමන් කළ වේගයෙන් මුළු දුරම නොනැවතී ගමන් කළේ නම්, ඊට අදාළ ප්‍රස්තාරය මෙම රූපය මත ම ඇඳ දක්වන්න.  
එවිට ශිෂ්‍යයාට මිනිත්තු කීයකට කලින් ගමන අවසන් කළ හැකි වේ ද?

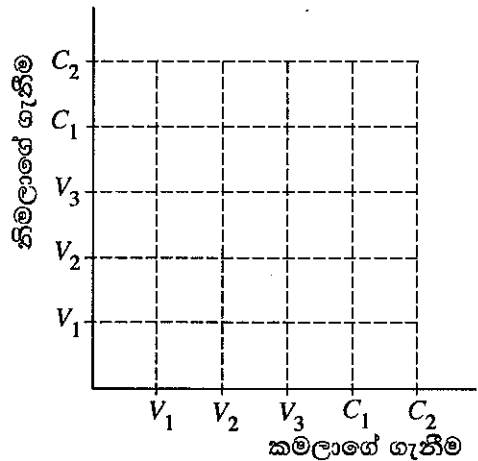
3. (a) විදුලි භාණ්ඩ ආනයනය කිරීමේදී 30%ක තීරු බද්දක් අය කෙරේ. මෙම වර්ගයේ භාණ්ඩයක් ආනයනය කිරීමේදී තීරු බද්ද ලෙස රුපියල් 9 000ක් ගෙවිය යුතු නම් ආනයනය කරන භාණ්ඩයේ වටිනාකම කොපමණ ද?

(b) (i) නිවසක වාර්ෂික තක්සේරු වටිනාකම රුපියල් 30 000කි. එම දේපළ සඳහා නගර සභාව 8%ක වාර්ෂික වරිපනම් බද්දක් අය කරයි නම් කාර්තුවකට ගෙවිය යුතු වරිපනම් බදු මුදල සොයන්න.

(ii) අවුරුදු කිහිපයකට පසු නිවසේ තක්සේරු වටිනාකම වෙනස් විය. තව ද නගර සභාව අය කරන වරිපනම් බදු ප්‍රතිශතය 9% කෙක් වැඩි විය. එවිට කාර්තුවකට ගෙවිය යුතු වරිපනම් බදු මුදල රුපියල් 30කින් වැඩි වූයේ නම් නිවසේ නව වාර්ෂික තක්සේරු වටිනාකම සොයන්න.

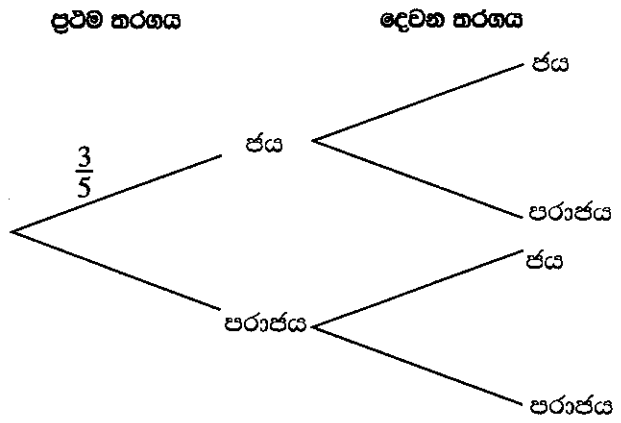
4. (a) බැගයක් තුළ එකම ප්‍රමාණයේ වැනිලා රසැති කිරි පැකට් 3ක් ද වොක්ලට් රසැති කිරි පැකට් 2ක් ද ඇත. කමලා අහඹු ලෙස කිරි පැකට්වුවක් ඉවතට ගත් පසු නිමලා ද අහඹු ලෙස කිරි පැකට්වුවක් ඉවතට ගනියි.

(i) ඉහත පරීක්ෂණයේ නියැදි අවකාශය, දී ඇති කොටු දැල මත 'X' ලකුණ යොදා නිරූපණය කරන්න. වැනිලා රසැති කිරි පැකට්  $V_1, V_2, V_3$  මගින් ද වොක්ලට් රසැති කිරි පැකට්  $C_1, C_2$  මගින් ද දැක්වේ.



(ii) දෙදෙනාම වැනිලා රසැති කිරි පැකට් ඉවතට ගැනීමේ සිද්ධිය කොටු දැලෙහි වට කර දක්වා එහි සම්භාවිතාව සොයන්න.


(b) ක්‍රීඩා කණ්ඩායමක් ඔවුන් සහභාගි වන ප්‍රථම තරඟය ජය ගැනීමේ සම්භාවිතාව  $\frac{3}{5}$  කි. ඔවුන් ප්‍රථම තරඟය ජය ගතහොත් දෙවන තරඟය ජය ගැනීමේ සම්භාවිතාව  $\frac{7}{10}$  කි. ප්‍රථම තරඟය පරාජය වුවහොත් දෙවන තරඟය ජය ගැනීමේ සම්භාවිතාව  $\frac{1}{2}$  කි. මෙම තොරතුරු නිරූපණය කිරීමට අදින ලද අසම්පූර්ණ රූක් සටහනක් රූපයේ දැක්වේ.



- (i) අදාළ සම්භාවිතා දක්වමින් රූක් සටහන සම්පූර්ණ කරන්න.
- (ii) කණ්ඩායම අඩු තරමින් එක් තරඟයක්වත් ජය ගැනීමේ සම්භාවිතාව සොයන්න.

5. පහත දී ඇත්තේ සන්තතික දත්ත 48ක සමූහිත සංඛ්‍යාත ව්‍යාප්තියකි. මෙහි 10 - 20 පන්ති ප්‍රාන්තරයට 10ට සමාන හෝ ඊට වැඩි නමුත් 20ට අඩු දත්ත සියල්ල අයත් වේ. අනෙකුත් පන්ති ප්‍රාන්තර ද එලෙසම වේ.

පන්ති ප්‍රාන්තරය	සංඛ්‍යාතය	සමුච්චිත සංඛ්‍යාතය
10 - 20	6	6
20 - 30	8	14
30 - 40	12	26
40 - 50	15	...
50 - 60	5	...
60 - 70	...	48



- (i) වගුවෙහි හිස්තැන් සම්පූර්ණ කරන්න.
- (ii) දී ඇති බණ්ඩාංක තලය මත සමුච්චිත සංඛ්‍යාත වක්‍රය ඇඳ, ඒ ඇසුරෙන් සංඛ්‍යාත ව්‍යාප්තියේ මධ්‍යස්ථය ලබා ගන්න.
- (iii) ඉහත (ii) කොටසේදී ලබා ගත් මධ්‍යස්ථය, එය අඩංගු පන්ති ප්‍රාන්තරයේ මධ්‍ය අගයෙන් කොපමණ අපගමනය වේ ද?



OL/2018/32/S-II

සියලු ම හිමිකම් ඇවිරිණි / முழுப் பதிப்புரிமையுடையது / All Rights Reserved

ශ්‍රී ලංකා විභාග දෙපාර්තමේන්තුව ශ්‍රී ලංකා විභාග දෙපාර්තමේන්තුව ශ්‍රී ලංකා විභාග දෙපාර්තමේන්තුව ශ්‍රී ලංකා විභාග දෙපාර්තමේන්තුව ශ්‍රී ලංකා විභාග දෙපාර්තමේන්තුව  
 இலங்கைப் பரீட்சைத் திணைக்களம் இலங்கைப் பரීட்சைத் திணைக்களம் இலங்கைப் பரීட்சைத் திணைக்களம் இலங்கைப் பரීட்சைத் திணைக்களம் இலங்கைப் பரීட்சைத் திணைக்களம்  
 Department of Examinations, Sri Lanka Department of Examinations, Sri Lanka Department of Examinations, Sri Lanka Department of Examinations, Sri Lanka Department of Examinations, Sri Lanka  
 ශ්‍රී ලංකා විභාග දෙපාර්තමේන්තුව ශ්‍රී ලංකා විභාග දෙපාර්තමේන්තුව ශ්‍රී ලංකා විභාග දෙපාර්තමේන්තුව ශ්‍රී ලංකා විභාග දෙපාර්තමේන්තුව ශ්‍රී ලංකා විභාග දෙපාර්තමේන්තුව  
 இலங்கைப் பரීட்சைத் திணைக்களம் இலங்கைப் பரීட்சைத் திணைக்களம் இலங்கைப் பரීட்சைத் திணைக்களம் இலங்கைப் பரīட்சைத் திணைக்களம் இலங்கைப் பரīட்சைத் திணைக்களம்  
 Department of Examinations, Sri Lanka Department of Examinations, Sri Lanka Department of Examinations, Sri Lanka Department of Examinations, Sri Lanka Department of Examinations, Sri Lanka

32 S II

**අධ්‍යයන පොදු සහතික පත්‍ර (සාමාන්‍ය පෙළ) විභාගය, 2018 දෙසැම්බර්**  
**கல்விப் பொதுத் தராதரப் பத்திர (சாதாரண தர)ப் பரீட்சை, 2018 டிசெம்பர்**  
**General Certificate of Education (Ord. Level) Examination, December 2018**

**ගණිතය II**  
**கணிதம் II**  
**Mathematics II**

2018.12.10 / 1300 - 1610

**පැය තුනයි**  
 மூன்று மணித்தியாலம்  
**Three hours**

**අමතර කියවීම් කාලය - මිනිත්තු 10 යි**  
**மேலதிக வாசிப்பு நேரம் - 10 நிமிடங்கள்**  
**Additional Reading Time - 10 minutes**

අමතර කියවීම් කාලය ප්‍රශ්න පත්‍රය කියවා ප්‍රශ්න තෝරා ගැනීමටත් පිළිතුරු ලිවීමේදී ප්‍රමුඛත්වය දෙන ප්‍රශ්න සංවිධානය කර ගැනීමටත් යොදාගන්න.

**වැදගත්:**

- \* A කොටසේ ප්‍රශ්න පහක් හා B කොටසේ ප්‍රශ්න පහක් තෝරා ගෙන ප්‍රශ්න දහයකට පිළිතුරු සපයන්න.
- \* ප්‍රශ්නවලට පිළිතුරු සැපයීමේදී අදාළ පියවර හා නිවැරදි ඒකක ලියා දක්වන්න.
- \* සෑම ප්‍රශ්නයකට ම ලකුණු 10 බැගින් හිමි වේ.
- \* පතුලේ අරය  $r$  ද උස  $h$  ද වන සෘජු වෘත්ත සිලින්ඩරයක පරිමාව  $\pi r^2 h$  වේ.

**A කොටස**

ප්‍රශ්න පහකට පමණක් පිළිතුරු සපයන්න.

1. A හා B බැංකු දෙකක් තැන්පතුවලට ගෙවන පොලිය පිළිබඳ ව පහත සඳහන් දැන්වීම් පළ කර ඇත.

A	B
මබේ තැන්පතුවට 5.2%ක වාර්ෂික සුළු පොලියක්!	මබේ තැන්පතුවට 5%ක වාර්ෂික වැල් පොලියක්!

සමන් ළඟ රුපියල් 80000ක් තිබුණි. ඔහු එයින් හරි අඩක් A බැංකුවේ ද ඉතිරි අඩ B බැංකුවේ ද තැන්පත් කළේය.

- (i) A බැංකුවේ මුදල් තැන්පතුවෙන් සමන්ට වර්ෂයකට ලැබෙන පොලිය සොයන්න.
- (ii) ඔහුගේ මුදල් තැන්පතු සඳහා අවුරුදු දෙකක් අවසානයේදී වැඩි ආදායමක් ලැබෙන්නේ කුමන බැංකුවෙන් ද? මබේ පිළිතුරට හේතු දක්වන්න.
- (iii) අවුරුදු දෙකකට පසු සමන් ඔහුට තැන්පතු දෙකෙන් ම ලැබුණු මුළු ආදායමට, ආරම්භයේදී තැන්පත් කළ මුදල සහ තවත් අමතර මුදලක් ද එකතු කොට එම මුළු මුදල සමාගමක කොටස් මිලදී ගැනීමට යෙදවීය. එම සමාගමේ කොටසක වෙළෙඳපොළ මිල රුපියල් 50කි. සමාගම වාර්ෂිකව කොටසකට රුපියල් 2ක ලාභාංශයක් ගෙවයි. වර්ෂයක් අවසානයේ ඔහුට රුපියල් 3600ක ලාභාංශ ආදායමක් ලැබුණි. ඔහු කොටස් මිලදී ගැනීමේදී අමතරව එකතු කළ මුදල සොයන්න.

2. සෘජුකෝණාස්‍රයක බද්ධ පාද දෙකක දිගෙහි එකතුව 16 cm ද විකර්ණයක දිග 14 cm ද වේ. සෘජුකෝණාස්‍රයේ පළල  $x$  cm ලෙස ගත් විට එය  $x^2 - 16x + 30 = 0$  වර්ගජ සමීකරණය තෘප්ත කරන බව පෙන්වා, සෘජුකෝණාස්‍රයේ දිග හා පළල පළමුවන දශමස්ථානයට වෙන වෙනම සොයන්න.  
 ( $\sqrt{34}$  හි අගය සඳහා 5.83 යොදාගන්න.)

3.  $y$  යනු  $x$  හි වර්ගජ ශ්‍රිතයක් වේ.  $x$  හි අගය කිහිපයකට අනුරූප  $y$  හි අගය ඇතුළත් අසම්පූර්ණ වගුවක් පහත දී ඇත.

$x$	-1	0	1	2	3	4	5
$y$	6	1	-2	-3	-2	...	6

- (i) වර්ගජ ශ්‍රිතයෙහි සමමිතිය සැලකීමෙන්,  $x = 4$  වන විට  $y$  හි අගය ලබා ගන්න.
- (ii) සම්මත අක්ෂ පද්ධතිය හා සුදුසු පරිමාණයක් යොදාගනිමින් වර්ගජ ශ්‍රිතයෙහි ප්‍රස්තාරය ඉහත අගය වගුවට අනුව ප්‍රස්තාර කඩදාසියක අඳින්න.
- (iii)  $x$  හි අගය 0 සිට 2 තෙක් වැඩි වන විට  $y$  හි හැසිරීම විස්තර කරන්න.
- (iv) වර්ගජ ශ්‍රිතය  $y = (x - a)^2 + b$  ආකාරයට ප්‍රකාශ කරන්න.
- (v)  $y = t$  යනු  $x$ -අක්ෂයට සමාන්තර සරල රේඛාවකි. මෙම සරල රේඛාව සහ වර්ගජ ශ්‍රිතයේ ප්‍රස්තාරය  $x$ -බිඤ්චාංක ධන වන ලක්ෂ්‍ය දෙකකදී ඡේදනය වීම සඳහා  $t$  පිහිටිය යුතු ප්‍රාන්තරය කුමක් ද?

4. ක්‍රිකට් තරගයකදී ජයග්‍රාහී කණ්ඩායම ගැසූ හතරේ පහර සහ හයේ පහර සංඛ්‍යාව 38කි. එසේ හතරේ පහරවලින් සහ හයේ පහරවලින් පමණක් ලබා ගත් ලකුණු සංඛ්‍යාව 176කි.

- (i) හතරේ පහර සංඛ්‍යාව  $x$  ද හයේ පහර සංඛ්‍යාව  $y$  ද ලෙස ගෙන, ඉහත තොරතුරු ඇසුරෙන් සමගාමී සමීකරණ යුගලයක් ගොඩනගන්න.
- (ii) සමගාමී සමීකරණ යුගලය විසඳීමෙන්, හතරේ පහර සංඛ්‍යාවක් හයේ පහර සංඛ්‍යාවක් වෙන වෙනම සොයන්න.
- (iii) පරාජය වූ කණ්ඩායම ගැසූ හයේ පහර සංඛ්‍යාව  $a$  නම්, එය  $2(2a - 5) + 3a \leq 54$  අසමානතාව තෘප්ත කරයි. එම කණ්ඩායමට ගත හැකි වූ උපරිම හයේ පහර සංඛ්‍යාව සොයන්න.

5. සනකාභ හැඩැති මීටර එකක් උස විදුරු භාජනයක පතුල සමවතුරුයක් වේ. පතුලේ පැත්තක දිග 25 cm කි. භාජනයෙන් හරි අඩක් උසට ජලය පිරී තිබේ.

- (i) භාජනයේ ඇති ජල පරිමාව සන සෙන්ටිමීටරවලින් සොයන්න.
- (ii) පතුලේ අරය නොදන්නා උස 10 cm බැගින් වූ සර්වසම සන සෘජු වෘත්ත ලෝහ සිලින්ඩර කිහිපයක් රාහි සතුව ඇත. ඇය එම සිලින්ඩරයක පතුලේ අරය  $r$  සෙවීම සඳහා, ඒවා එකින් එක, අඩක් ජලය පිරී ඇති ඉහත භාජනයට දමයි. ඒවා හරියටම 25ක් දැමූ විට භාජනය සම්පූර්ණයෙන් පිරෙන මට්ටමට ජලය පැමිණේ.  $r = 5\sqrt{\frac{5}{\pi}}$  cm බව පෙන්වන්න.
- (iii)  $\pi$  හි අගය සඳහා 3.14 යොදාගෙන  $r$  හි අගය සෙන්ටිමීටරවලින් පළමුවන දශමස්ථානයට සොයන්න.

6. නිමල් ක්‍රීඩා භාණ්ඩ නිපදවන කුඩා කර්මාන්තයක යෙදී සිටියි. ඔහු දින 50ක කාලයක් තුළ එක් එක් දිනයේ නිපදවන ලද භාණ්ඩ සංඛ්‍යාව පිළිබඳ තොරතුරු පහත සංඛ්‍යාත ව්‍යාප්තියේ දැක්වේ.

භාණ්ඩ සංඛ්‍යාව	20 - 30	30 - 40	40 - 50	50 - 60	60 - 70	70 - 80
දින ගණන	5	8	10	12	9	6

නිමල් මෙම භාණ්ඩයක් විකිණීමෙන් රුපියල් 60ක ලාභයක් ලබයි. ඉහත ආකාරයට වැඩ කර භාණ්ඩ විකිණීමෙන් ඉදිරි දින 120ක කාලයකදී රුපියල් 370 000ක ලාභයක් ලැබේ යැයි ඔහු අපේක්ෂා කරයි. දිනකට ඔහු නිපදවන මධ්‍යන්‍ය ක්‍රීඩා භාණ්ඩ සංඛ්‍යාව සොයා, ඔහුගේ අපේක්ෂාව ඉටුවේ දැයි හේතු සහිත ව පෙන්වන්න.

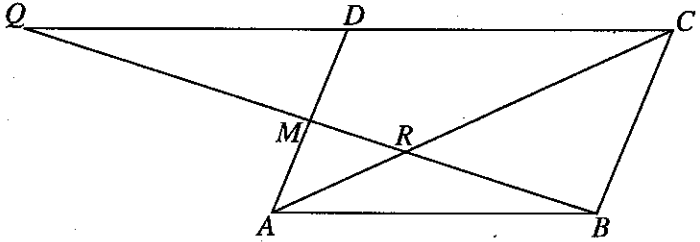
**B කොටස**

ප්‍රශ්න පහකට පමණක් පිළිතුරු සපයන්න.

7. සැරසිල්ලක් කුඩා වීදුලි බල්බ සහිත වෘත්ත කිහිපයකින් සමන්විත වේ. එහි පළමුවන වෘත්තයේ බල්බ 5ක් ද දෙවන වෘත්තයේ බල්බ 9ක් ද තුන්වන වෘත්තයේ බල්බ 13ක් ද වන ආකාරයට බල්බ ඇත. පළමුවන වෘත්තයෙන් පටන්ගෙන එක් එක් වෘත්තයේ ඇති බල්බ සංඛ්‍යාව අනුපිළිවෙළින් ගත් විට ඒවා සමාන්තර ශ්‍රේණියක පිහිටයි.
- (i) 10 වන වෘත්තයේ ඇති බල්බ සංඛ්‍යාව කීය ද?
  - (ii) පළමු වෘත්ත  $n$  සංඛ්‍යාවේ ඇති මුළු බල්බ සංඛ්‍යාව  $S_n$  නම්,  $S_n = n(2n + 3)$  බව පෙන්වන්න.
  - (iii) සැරසිල්ල වෘත්ත 40කින් සමන්විත වේ නම් සැරසිල්ලේ ඇති මුළු බල්බ සංඛ්‍යාව සොයන්න.
  - (iv) වෘත්ත අතුරෙන්, 10 වන වෘත්තයෙන් පටන්ගෙන 5 හි ගුණාකාර ලෙස ගැනෙන සෑම වෘත්තයකම ඇති බල්බ පමණක් කහපාට වන අතර අනෙක් සියලු ම බල්බ රතුපාට වේ. සැරසිල්ලේ ඇති රතුපාට බල්බ සංඛ්‍යාව සොයන්න.

8. පහත දැක්වෙන නිර්මාණ සඳහා cm/mm පරිමාණයක් සහිත සරල දාරයක් හා කවකටුවක් පමණක් භාවිත කරන්න. නිර්මාණ රේඛා පැහැදිලිව දක්වන්න.
- (i) 7.5 cm දිග  $AB$  සරල රේඛා ඛණ්ඩයක් ඇද එහි ලම්බ සමච්ඡේදකය නිර්මාණය කරන්න.
  - (ii)  $AB$  හි මධ්‍ය ලක්ෂ්‍යය  $C$  ලෙස ගෙන,  $C$  කේන්ද්‍රය ද  $AB$  විෂ්කම්භය ද වන අර්ධ වෘත්තයක් නිර්මාණය කරන්න.
  - (iii)  $AB$  හි ලම්බ සමච්ඡේදකයටත්  $CB$  රේඛාවටත් සමදූරින් විචලනය වන ලක්ෂ්‍යයක පථය නිර්මාණය කර, එය අර්ධ වෘත්තය ඡේදනය කරන ලක්ෂ්‍යය  $P$  ලෙස නම් කරන්න.
  - (iv)  $P$  හිදී අර්ධ වෘත්තයට ස්පර්ශකය නිර්මාණය කර, එය  $AB$  හි ලම්බ සමච්ඡේදකය හමුවන ලක්ෂ්‍යය  $D$  යැයි නම් කරන්න.
  - (v)  $D$  සිට අර්ධ වෘත්තයට ඇඳිය හැකි අනෙක් ස්පර්ශකය ද නිර්මාණය කර, එම ස්පර්ශකය  $PC$  රේඛාවට සමාන්තර වීමට හේතු දක්වන්න.

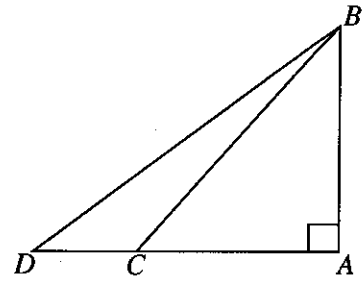
9. රූපයේ දැක්වෙන  $ABCD$  සමාන්තරාස්‍රයේ  $AD$  පාදයේ මධ්‍ය ලක්ෂ්‍යය  $M$  වේ.  $BM$  හි සහ  $AC$  හි ඡේදන ලක්ෂ්‍යය  $R$  වේ. තව ද දික් කරන ලද  $BM$  සහ  $CD$  රේඛා  $Q$  හිදී හමු වේ.



මෙම රූපය ඔබේ උත්තර පත්‍රයට පිටපත් කරගන්න.

- (i)  $AQ$  සහ  $BD$  යා කර,  $ABDQ$  සමාන්තරාස්‍රයක් බව පෙන්වන්න.
- (ii)  $\frac{MR}{RB} = \frac{1}{2}$  බව සහ  $QR = 2RB$  බව පෙන්වන්න.

10. සමකල තිරස් පොළොවක සිටුවා ඇති  $AB$  සිරස් කණුවක් ද එයට  $30\text{ m}$  දුරින් පිහිටි  $C$  ලක්ෂ්‍යයක් ද රූපයේ දැක්වේ.  $C$  ලක්ෂ්‍යයේ සිට නිරීක්ෂණය කළ විට කණුව මුදුන  $B$  හි ආරෝහණ කෝණය  $48^\circ$  කි.  $A$  සිට  $C$  පිහිටි දිශාවටම වූ  $D$  ලක්ෂ්‍යයේ සිට  $B$  ට ගැට ගසා ඇති කම්බියක දිග  $50\text{ m}$  වේ.



දී ඇති රූපය උත්තර පත්‍රයට පිටපත් කරගෙන, ඉහත තොරතුරු එහි ඇතුළත් කරන්න.

$D$  සිට නිරීක්ෂණය කළ විට  $B$  හි ආරෝහණ කෝණය  $40^\circ$  ට වඩා විශාල බව පෙන්වන්න.

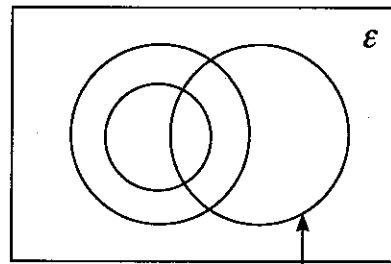
11. එක්තරා පාසලක උසස් පෙළ පන්තිවල ආර්ථික විද්‍යාව, ව්‍යාපාර සංඛ්‍යාන සහ ගිණුම්කරණය යන විෂයයන් හදාරන ශිෂ්‍ය සංඛ්‍යා පිළිබඳ තොරතුරු නිරූපණය සඳහා ඇදී අසම්පූර්ණ වෙන් සටහනක් මෙහි දැක්වේ.

මෙම පාසලේ ව්‍යාපාර සංඛ්‍යාන හදාරන සෑම ශිෂ්‍යයෙක්ම ආර්ථික විද්‍යාව ද හදාරයි.

(i) දී ඇති වෙන් සටහන උත්තර පත්‍රයට පිටපත් කරගෙන, අනෙකුත් විෂයයන් දෙක හදාරන ශිෂ්‍ය කුලක සුදුසු පරිදි නම් කරන්න.

පහත තොරතුරු වෙන් සටහනෙහි ඇතුළත් කරන්න.

- ශිෂ්‍යයෝ 45 දෙනෙක් ගිණුම්කරණය හදාරති.
- ශිෂ්‍යයෝ 30 දෙනෙක් ව්‍යාපාර සංඛ්‍යාන හදාරති.
- ශිෂ්‍යයෝ 18 දෙනෙක් මෙම විෂයයන් තුන අතුරෙන් ආර්ථික විද්‍යාව පමණක් හදාරති.



ගිණුම්කරණය හදාරන ශිෂ්‍යයන්

(ii) මෙම විෂයයන් තුන අතුරෙන් දෙකක් පමණක් හදාරන ශිෂ්‍යයන් නිරූපණය කෙරෙන ප්‍රදේශ අඳුරු කර දක්වන්න.

(iii) ශිෂ්‍යයෝ 55 දෙනෙක් ව්‍යාපාර සංඛ්‍යාන සහ ගිණුම්කරණය යන විෂයයන් දෙකෙන් අඩු තරමින් එක් විෂයයක්වත් හදාරති. මෙම විෂයයන් තුනම හදාරන ශිෂ්‍ය සංඛ්‍යාව සොයන්න.

(iv) මෙම විෂයයන් තුන අතුරෙන් ගිණුම්කරණය පමණක් හදාරන ශිෂ්‍ය සංඛ්‍යාව, ගිණුම්කරණය හැර ව්‍යාපාර සංඛ්‍යාන හදාරන ශිෂ්‍ය සංඛ්‍යාව මෙන් දෙගුණයක් නම්, ආර්ථික විද්‍යාව හදාරන ශිෂ්‍ය සංඛ්‍යාව සොයන්න.

12. දී ඇති රූපයේ,  $O$  කේන්ද්‍රය වූ වෘත්තයට  $A$  හිදී ඇදී ස්පර්ශකය  $XAY$  වේ.  $AB$  ජ්‍යාය  $XAO$  සමවෘත්තීය කරයි.  $AD$  විෂ්කම්භය  $E$  තෙක් දික් කර ඇති අතර  $C$  ලක්ෂ්‍යය වෘත්තය මත  $B$  සහ  $D$  ලක්ෂ්‍ය අතර පිහිටයි. තව ද  $AC$  සහ  $OB$  හි ඡේදන ලක්ෂ්‍යය  $P$  වේ.

- (i)  $\hat{ACB} = 45^\circ$  බව
  - (ii)  $\hat{YAC} = \hat{CDE}$  බව
  - (iii)  $\hat{BPC} = \hat{ODC}$  බව
- හේතු සහිත ව පෙන්වන්න.

